

Souligne les compléments circonstanciels.

Chaque matin, je me réveille de mauvaise humeur.

Tu lanceras le ballon à mon signal.

À la fin de la journée, le peintre aura fini de repeindre le mur.

Viens me voir demain matin !

Dans le ciel, les avions laissent une grande traînée blanche.

Délicatement, maman recouche le bébé endormi.

La semaine dernière, j'ai perdu mes gants dans le métro.

Les habitants ont découvert, avec tristesse, les dégâts de l'incendie.

Autrefois, les voitures n'existaient pas.

L'enfant déballe ses cadeaux nerveusement.

À Noël, il y a beaucoup de décorations dans les magasins.

Ajoute un CC de lieu à chaque phrase.

La nuit dernière, un bateau a coulé. Les chiens ont perdu la piste du cerf.

J'ai rencontré mon chanteur préféré ! As-tu été satisfaite du spectacle ?

Un animal rôde depuis hier.



Je travaille seul...

Semaine 12
CM1 01/2022

Plan de Travail

Français

Compétences travaillées

- Conjuguer au présent et au futur de l'indicatif.
Avec je
étudier, grossir, chercher, sauter, louer, prier, penser



- Avec nous
rincer, réunir, danser, crier, applaudir, remuer, changer



- Identifier les compléments circonstanciels.



Mathématiques

Compétences travaillées

- Poser et effectuer une multiplication.

524×402

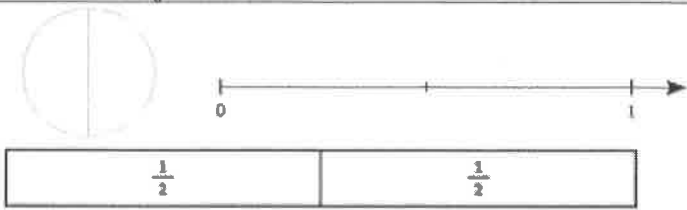
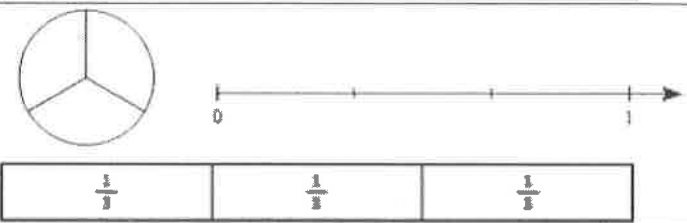
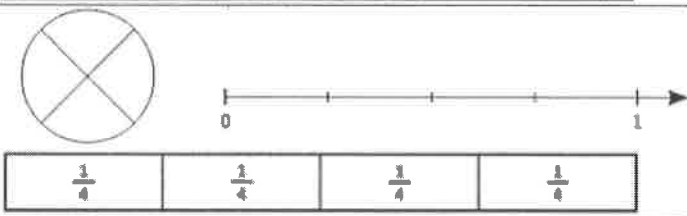

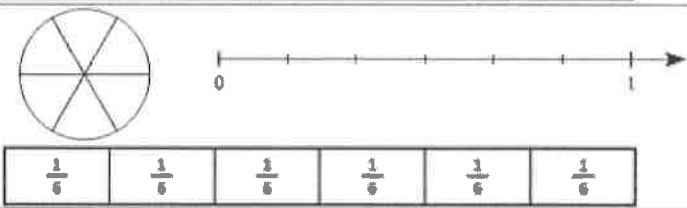
697×3002

634×601

$3\ 254 \times 7002$

- Calculer le périmètre du carré et du rectangle.
Problèmes APDM p 120 n° 3,4,5



La fraction	En lettres	En image
$\frac{1}{2}$	
$\frac{1}{3}$	
$\frac{2}{4}$	
$\frac{3}{5}$	
$\frac{4}{6}$	
$\frac{5}{10}$	