

Prénom :

Date :

LES NOMBRES DE 0 À 500 (3)



1- **Complète** avec $>$, $<$ ou $=$.

144 411

509 199

327 319

260 263

100 + 40 + 5 154

300 + 80 + 1 381

200 + 40 420

400 + 10 + 9 409

trois-cents cent-trois

cent-quatre-vingts cent-vingt-quatre




2- **Rajoute** les nombres de ton choix pour que l'écriture soit juste.

100 < < 110



260 < < 270

500 > > 400



3- Dans chaque train, **écris** la **dizaine** qui est **avant** et celle qui est **après**.



4- Dans chaque train, **écris** la **centaine** qui est **avant** et celle qui est **après**.



5- **Complète** les trains.



6- **Place** les nombres dans les sacs. 442 370 499 414 457 334 480 393

