

## Nombres et quantités : de 0 à 999



1 Complète le tableau:

nombre avant	nombre	nombre après
	445	
608		
		261
854		

2 Complète avec  $<$ ,  $>$  ou  $=$ :

3  15

265 ..... 625

100 ..... 200

109 ..... 901

350 ..... 410

600 ..... 612

918 ..... 185

49 ..... 412

180 ..... 818

3 Relie les nombres à leur place sur la droite graduée

420

370

630

550

590

300


400

500

600

700

4 Complète la bande numérique:

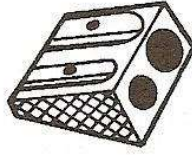


## Nombres et quantités: de 0 à 999




1 Ecris les nombres manquants:

283 ..... 286

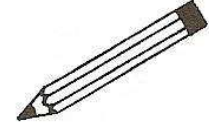


..... 326



289 ..... 292

317 ..... ..



.....  
.....  
.....  
449 ..... 459

555 ..... ..  
.....  
.....  
..... 565

2 Colorie les nombres identiques :

523

quatre - cent - quatre - vingt - quatre

$200 + 9$

$400 + 80 + 4$

$500 + 20 + 3$

neuf - cent - quarante - neuf

209

deux - cent - neuf

$900 + 40 + 9$

949

cing - cent - vingt - trois

484

3 Complète :

182	$100 + 80 + 2$
646	
287	
841	

	$700 + 40 + 5$
	$300 + 90 + 3$
	$900 + 50 + 7$
	$500 + 10 + 9$